


Jueves 17 de enero de 2019.

2° A-B PRIMARIA

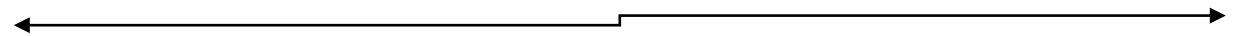
ESPAÑOL/ MATEMÁTICAS

- Leer: Tiburones de agua dulce.
- Brincos en la recta numérica.(explicación pegada en el cuaderno de matemáticas)
 - ✓ Calcula las sumas utilizando la recta numérica.

a) $86+45=$



b) $93+26=$



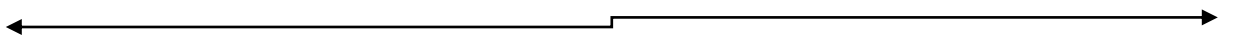
c) $47+25=$



d) $74+45=$



e) $46+17=$



ENGLISH
GRAMMAR

- Read: The animals on the beach.
- Answer page 63 workbook.

